



| | |
|------------------|---------------|
| Roll No. | |
| Participant Name | |
| Test Center Name | |
| Test Date | |
| Test Time | |
| Subject | PGT GEOGRAPHY |

Section : General (English & Hindi)

Q.1 Choose the word which is least like the other words in the group.

- Ans
- 1. Sapphire
 - 2. Ruby
 - 3. Jasper
 - 4. Marble

Question ID : 5096476654

Status : Answered

Chosen Option : 1

Q.2 Select the most appropriate synonym of the given word.

SUFFICIENT

- Ans
- 1. meager
 - 2. excess
 - 3. adequate
 - 4. scanty

Question ID : 5096476659

Status : Answered

Chosen Option : 3

Q.3 Fill in the blank with the most appropriate option.

A born trickster, he was as inclined to _____ as an embezzler is inclined to fraud.

- Ans
- 1. ingenuousness
 - 2. bravado

✓ 3. chicanery

✗ 4. candor

Question ID : 5096476649
Status : Answered
Chosen Option : 2

Q.4 Fill in the blank with the right option:

All great thinkers live and _____ a high plane of thought.

Ans ✓ 1. move on

✗ 2. move at

✗ 3. move with

✗ 4. move by

Question ID : 5096476651
Status : Answered
Chosen Option : 1

Q.5 Fill in the blanks with the right option:

We are not _____ to the idea of moving to Mumbai.

Ans ✓ 1. averse

✗ 2. aversion

✗ 3. advise

✗ 4. adverse

Question ID : 5096476655
Status : Answered
Chosen Option : 2

Q.6 Fill in the blank with the correct option.

The new jobs that _____ a result of governmental incentives to large co-operations.

Ans ✗ 1. are being created come

✓ 2. are being created come as

✗ 3. were created to come

✗ 4. are created to come as

Question ID : 5096476648
Status : Answered
Chosen Option : 3

Q.7

Select the most appropriate option to fill in the blank.

They wanted to know _____ I was still prepared to work on the project.

- Ans
- 1. as if
 - 2. if
 - 3. that
 - 4. even if

Question ID : 5096476656
Status : Answered
Chosen Option : 3

Q.8 Select the most appropriate phrase that can substitute the underlined words in the given sentence.

This building is being demolished so that a five-star hotel can be built here.

- Ans
- 1. pulled in
 - 2. pulled up
 - 3. pulled down
 - 4. pulled through

Question ID : 5096476662
Status : Answered
Chosen Option : 3

Q.9 Parts of a sentence are given below in jumbled order. Arrange the parts in the right order to form a meaningful sentence.

- A. the willingness and ability of the police
- B. in their most
- C. Sunday's operation also established
- D. remote and safest havens
- E. to strike at the Maoists

- Ans
- 1. CBEDA
 - 2. CAEBD
 - 3. CEDBA
 - 4. CDABE

Question ID : 5096476661
Status : Answered
Chosen Option : 4

Q.10 Select the most appropriate option to fill in the blank.

Colonel Sharma has a _____ haveli in his village in Rajasthan.

- Ans
- 1. red stone large
 - 2. red large stone
 - 3. large red stone

~~X~~ 4. large stone red

Question ID : 5096476657
Status : Answered
Chosen Option : 3

Q.11 Fill in the blank with the most appropriate option.

Paradoxically, the very admonitions intended to reform the prodigal served only to _____ his wicked ways.

- Ans
- ~~X~~ 1. turn him from
 - ~~X~~ 2. transform
 - ~~X~~ 3. distress him about
 - ✓ 4. reinforce

Question ID : 5096476650
Status : Answered
Chosen Option : 2

Q.12 Fill in the blank with the correct option.

He _____ move the bags himself.

- Ans
- ~~X~~ 1. has
 - ~~X~~ 2. had been to
 - ~~X~~ 3. have to
 - ✓ 4. has to

Question ID : 5096476652
Status : Answered
Chosen Option : 4

Q.13 Choose the correct sentence from the options given.

- Ans
- ~~X~~ 1. In a corner of the room standing a large cupboard of wood.
 - ~~X~~ 2. In corner of room stand wooden large cupboard.
 - ~~X~~ 3. In a corner of the room stood a wooden large cupboard.
 - ✓ 4. In a corner of the room stood a large wooden cupboard.

Question ID : 5096476643
Status : Answered
Chosen Option : 4

Q.14 Select the most appropriate meaning of the underlined idiom.

Recently, he has been giving airs to himself. I don't know, why.

- Ans
- ~~X~~ 1. feeling very happy
 - ~~X~~ 2. needing change of climate

- 3. not feeling well
- 4. behaving arrogantly

Question ID : 5096476660
Status : Answered
Chosen Option : 4

Q.15 Choose the correct sentence from the options given.

- Ans
- 1. The volume is comprises of twenty papers.
 - 2. The volume comprises twenty papers.
 - 3. The volume consists twenty papers.
 - 4. The volume comprises of twenty papers.

Question ID : 5096476644
Status : Answered
Chosen Option : 3

Q.16 Choose the correct option to complete the sentence:

Mani was found fighting desperately _____ her life.

- Ans
- 1. on
 - 2. for
 - 3. with
 - 4. to

Question ID : 5096476653
Status : Answered
Chosen Option : 2

Q.17 Select the option that expresses the given sentence in reported speech.

Munna asked me, "When will you visit us again?"

- Ans
- 1. Munna enquired of me when will you visit us again.
 - 2. Munna enquired of me when I would visit them again.
 - 3. Munna enquired of me when I will visit them again.
 - 4. Munna enquired of me when he would visit us again.

Question ID : 5096476658
Status : Answered
Chosen Option : 4

Q.18

Fill in the blank with the correct option.

While I was crossing the street, _____ killed me.

- Ans
- 1. a sport vehicle-utility almost
 - 2. a sport-utility vehicle
 - 3. a sport-utility vehicle almost
 - 4. a sport-utility vehicle mostly

Question ID : 5096476647
Status : Answered
Chosen Option : 3

Q.19 Fill in the blank with the correct option.

All primitive societies _____ of trade.

- Ans
- 1. organisational forms
 - 2. need organised forms
 - 3. need forms
 - 4. need organisation

Question ID : 5096476645
Status : Answered
Chosen Option : 2

Q.20 Fill in the blank with the correct option.

The number of _____ adults has increased from 1998 to 1999.

- Ans
- 1. violence crime involve
 - 2. violence criminal involve
 - 3. crimes involve
 - 4. violent crimes involving

Question ID : 5096476646
Status : Answered
Chosen Option : 4

Q.21 आर महंत बसंत। में कौन सा अलंकार है?

- Ans
- 1. उत्प्रेक्षा अलंकार
 - 2. श्लेष अलंकार
 - 3. उपमा अलंकार
 - 4. रूपक अलंकार

Question ID : 5096476681

Status : Answered

Chosen Option : 4

Q.22 'ईश्वर में विश्वास करने वाला' वाक्यांश के लिए एक शब्द होगा:

- Ans
- 1. धार्मिक
 - 2. नास्तिक
 - 3. अस्तिक
 - 4. आध्यात्मिक

Question ID : 5096476676

Status : Answered

Chosen Option : 3

Q.23 'अवस्था' और 'सिक्का' दोनों के लिए प्रयुक्त होने वाला शब्द है:

- Ans
- 1. धन
 - 2. सोना
 - 3. संपत्ति
 - 4. मुद्रा

Question ID : 5096476665

Status : Answered

Chosen Option : 1

Q.24 'आचार्य' का स्त्रीलिंग शब्द लिखिए:

- Ans
- 1. आर्या
 - 2. गुरु माँ
 - 3. शिक्षिका
 - 4. आचार्या

Question ID : 5096476673

Status : Answered

Chosen Option : 4

Q.25 स्त्रीलिंग पुल्लिंग का कौन सा युग्म अशुद्ध है:

- Ans
- 1. नायक - नायिका
 - 2. चंचल - चंचली
 - 3. पाठक - पाठिका
 - 4. सेवक - सेविका

Question ID : 5096476682
Status : Answered
Chosen Option : 2

Q.26 'पिता जी को तार देकर बुला लो' वाक्य में तार शब्द किस अर्थ में प्रयुक्त हुआ है?

- Ans
- 1. रस्सी
 - 2. बिजली का तार
 - 3. टेलीग्राम
 - 4. सामान्य चिट्ठी

Question ID : 5096476664
Status : Answered
Chosen Option : 3

Q.27 स्वरों का मेल किस संधि में होता है?

- Ans
- 1. गुण संधि
 - 2. वृद्धि संधि
 - 3. स्वर संधि
 - 4. यण संधि

Question ID : 5096476668
Status : Answered
Chosen Option : 3

Q.28 'टोकरी में एक फल रखा है।' वाक्य में 'फल' का वचन है:

- Ans
- 1. द्विवचन
 - 2. बहुवचन
 - 3. त्रिवचन
 - 4. एकवचन

Question ID : 5096476671
Status : Answered
Chosen Option : 4

Q.29 'जिसका वर्णन न किया जा सके' वाक्यांश के लिए एक शब्द होगा:

- Ans
- 1. अवर्णनीय
 - 2. वर्णनीय
 - 3. अवचनीय
 - 4. अकथनीय

Question ID : 5096476677

Status : Answered
Chosen Option : 1

Q.30 'बेकार समय नष्ट करना' वाक्यांश के लिए उचित मुहावरा होगा:

- Ans
- 1. झख मारना
 - 2. तारे गिनना
 - 3. टस से मस न होना
 - 4. चेहरे पर हवाइयाँ उड़ना

Question ID : 5096476680
Status : Answered
Chosen Option : 3

Q.31 कौनसा पुल्लिंग शब्द है?

- Ans
- 1. भवदीया
 - 2. महोदया
 - 3. अनुज
 - 4. प्रिया

Question ID : 5096476663
Status : Answered
Chosen Option : 3

Q.32 साधु शब्द का बहुवचन (विभक्ति रहित) होगा:

- Ans
- 1. साधु
 - 2. साधुओं
 - 3. साधुओ
 - 4. साधुएँ

Question ID : 5096476670
Status : Answered
Chosen Option : 2

Q.33 'दिल्ली में तेज़ बारिश होना आम बात है।' वाक्य में आम शब्द किस अर्थ में प्रयुक्त हुआ है?

- Ans
- 1. बहुत बड़ी
 - 2. फल
 - 3. साधारण
 - 4. विशेष

Question ID : 5096476674

Status : Answered
Chosen Option : 3

Q.34 विलोम शब्द का कौन सा युग्म सही है:

- Ans
- 1. आहार - विहार
 - 2. लक्षण - विलक्षण
 - 3. आदर्श - यथार्थ
 - 4. दाता - दानी

Question ID : 5096476679
Status : Answered
Chosen Option : 3

Q.35 'तपस्विनी' का पुल्लिंग रूप लिखिए:

- Ans
- 1. तप पुरुष
 - 2. तपस्या
 - 3. तपस्वी
 - 4. तापसी

Question ID : 5096476672
Status : Answered
Chosen Option : 3

Q.36 'अतिवृष्टि' का विलोम है:

- Ans
- 1. वृष्टि
 - 2. अनावृष्टि
 - 3. मूसलावृष्टि
 - 4. बहुवृष्टि

Question ID : 5096476678
Status : Answered
Chosen Option : 2

Q.37 'पलक झपकाए बिना एकटक देखना' वाक्यांश के लिए एक शब्द है:

- Ans
- 1. सतत दृष्टि
 - 2. घूरना
 - 3. निर्निमेष
 - 4. एक दृष्टि

Question ID : 5096476667

Status : Answered

Chosen Option : 2

Q.38 'बादल' और 'हथौड़ा' दोनों के लिए प्रयुक्त होने वाला शब्द है:

- Ans
- 1. घन
 - 2. औज़ार
 - 3. घटा
 - 4. भारी

Question ID : 5096476675

Status : Answered

Chosen Option : 1

Q.39 'जिसका मन कहीं और लगा हो' वाक्यांश के लिए एक शब्द है:

- Ans
- 1. असमंजस
 - 2. अन्यमनस्क
 - 3. अनिच्छुक
 - 4. किंकर्तव्यविमूढ़

Question ID : 5096476666

Status : Answered

Chosen Option : 2

Q.40 काली मिर्च का समास विग्रह है:

- Ans
- 1. काली और मिर्च
 - 2. काली है जो मिर्च
 - 3. काली है मिर्च जिसकी
 - 4. काली मिर्ची

Question ID : 5096476669

Status : Answered

Chosen Option : 2

Section : General Awareness

Q.1 द्वितीय बौद्ध समिति कहाँ आयोजित की गई थी?

- Ans
- 1. राजगीर
 - 2. पाटलिपुत्र
 - 3. वैशाली
 - 4. जालंधर

Question ID : 5096476696
Status : Answered
Chosen Option : 3

Q.2 कैल्शियम हाइड्रॉक्साइड का सामान्य नाम क्या है?

- Ans
- 1. अनबुझा चूना
 - 2. बुझा चूना
 - 3. साधारण नमक
 - 4. बेकिंग सोडा

Question ID : 5096476706
Status : Answered
Chosen Option : 1

Q.3 निम्नलिखित में से किस राष्ट्र ने वर्ष 2007 का विश्व ट्वेंटी20 क्रिकेट टूर्नामेंट जीता?

- Ans
- 1. दक्षिण अफ्रीका
 - 2. न्यूजीलैंड
 - 3. इंडिया
 - 4. पाकिस्तान

Question ID : 5096476692
Status : Answered
Chosen Option : 3

Q.4 Which Indian state has the highest population of scheduled caste people?

- Ans
- 1. Punjab
 - 2. Maharashtra
 - 3. Rajasthan
 - 4. Uttar Pradesh

Question ID : 5096476708
Status : Answered
Chosen Option : 4

Q.5 पर्यावरण प्रदर्शन सूचकांक (ईपीआई) 2018 में भारत को 180 देशों के बीच निम्नलिखित में से कौन सा स्थान दिया गया है।

- Ans
- 1. 180 वां
 - 2. 177 वां
 - 3. 105 वां
 - 4. 11 वां

Question ID : 5096476687

Status : Answered
Chosen Option : 3

Q.6 निम्नलिखित हिंदुस्तानी शास्त्रीय संगीतकारों में से कौन किराना घराने से संबंधित है?

- Ans
- ✓ 1. भीमसेन जोशी
 - ✗ 2. उस्ताद जाकिर हुसैन
 - ✗ 3. पंडित शिवकुमार शर्मा
 - ✗ 4. बिस्मिल्लाह खान

Question ID : 5096476711
Status : Answered
Chosen Option : 3

Q.7 निम्नलिखित में से कौन सा खेल 'ईरानी कप' से संबंधित है?

- Ans
- ✗ 1. कबड्डी
 - ✗ 2. बैडमिंटन
 - ✗ 3. टेनिस
 - ✓ 4. क्रिकेट

Question ID : 5096476691
Status : Answered
Chosen Option : 4

Q.8 निम्नलिखित में से किस राज्य ने वर्ष 2018 में ग्रामीण लोगों के लिए 'अमा गाँव, अमा बिकास' (हमारा गाँव, हमारा विकास) नामक एक नया कार्यक्रम शुरू किया?

- Ans
- ✗ 1. बिहार
 - ✗ 2. सिक्किम
 - ✗ 3. असम
 - ✓ 4. ओडिशा

Question ID : 5096476690
Status : Answered
Chosen Option : 3

Q.9 _____ has announced that it has clinched a deal with India on the reduction of tariffs (import duties) on Indian medicines including anti-cancer drugs.

- Ans
- ✗ 1. South Korea
 - ✓ 2. China
 - ✗ 3. France
 - ✗ 4. Japan

Question ID : 5096476703
Status : Answered

Q.10 विश्व आर्थिक मंच (WEF) द्वारा शुरू की गई साइबर सुरक्षा के लिए ग्लोबल सेंटर का मुख्यालय इसमें से किस स्थान पर होगा?

- Ans
- 1. ताइवान
 - 2. चीन
 - 3. सिंगापुर
 - 4. स्विट्जरलैंड

Question ID : 5096476686

Status : Answered

Chosen Option : 4

Q.11 निम्नलिखित में से कौन सा वैक्सीन, विश्व स्वास्थ्य संगठन (WHO) द्वारा पहले से योग्य होने वाला, भारत से पहला स्वदेशी विकसित वैक्सीन बन गया?

- Ans
- 1. रोटसिन
 - 2. रोटोवैक
 - 3. केटोवैक
 - 4. केटोसिन

Question ID : 5096476685

Status : Answered

Chosen Option : 2

Q.12 ग्लोबल फुटप्रिंट नेटवर्क की स्थापना किस वर्ष में हुई थी?

- Ans
- 1. 1991
 - 2. 1971
 - 3. 2003
 - 4. 2010

Question ID : 5096476702

Status : Answered

Chosen Option : 1

Q.13 The world's largest solar park 'Shakti Sthala' is situated in:

- Ans
- 1. Uttar Pradesh
 - 2. Karnataka
 - 3. Himachal Pradesh
 - 4. Bihar

Question ID : 5096476688

Status : Answered

Chosen Option : 2

Q.14 रियाद में, दिसंबर 2017 में आयोजित विश्व रैपिड शतरंज चैम्पियनशिप इनमें से किस भारतीय खिलाड़ी ने जीती?

Ans

- 1. मुरली कार्तिकेयन
- 2. विश्वनाथन आनंद
- 3. पी हरिकृष्णा
- 4. भास्करन अधिबन

Question ID : 5096476693

Status : Answered

Chosen Option : 4

Q.15 भारतीय राष्ट्रीय कांग्रेस के निम्नलिखित में से किस सत्र में गांधी-इरविन समझौते को मंजूरी दी गई थी?

Ans

- 1. 1934, मुंबई
- 2. 1929, लाहौर
- 3. 1931, कराची
- 4. 1933, कोलकाता

Question ID : 5096476695

Status : Answered

Chosen Option : 3

Q.16 निम्नलिखित में से किस शहर में, 21-23 जनवरी 2019 को प्रवासी भारतीय दिवस मनाया गया?

Ans

- 1. पटना
- 2. वाराणसी
- 3. जयपुर
- 4. पुणे

Question ID : 5096476712

Status : Answered

Chosen Option : 2

Q.17 Which of the following articles of the Constitution of India deals with equal justice and free legal aid?

Ans

- 1. Article 78
- 2. Article 52
- 3. Article 86
- 4. Article 39A

Question ID : 5096476699

Status : Answered

Chosen Option : 4

Q.18 इनमें से किस दक्षिण पूर्व एशियाई देश की विधायिका ने मारिजुआना के लाइसेंस प्राप्त चिकित्सीय उपयोग की अनुमति देने के लिए दवा कानून में संशोधन करने पर सहमति व्यक्त की है?

Ans

- 1. सिंगापुर
- 2. वियतनाम
- 3. थाईलैंड
- 4. मलेशिया

Question ID : 5096476683
Status : Answered
Chosen Option : 1

Q.19 पोषक तत्वों के मेजबान पौधे से वंचित करने वाले एक हेटरोट्रॉफिक पौधे को इनमें से किस नाम से जाना जाता है?

- Ans
- 1. परजीवी
 - 2. शैवाल
 - 3. कवक
 - 4. सैप्रोट्रोफ

Question ID : 5096476705
Status : Answered
Chosen Option : 1

Q.20 इनमें से कौन सी भारतीय लड़की, विश्व का चक्कर लगाने वाली दुनिया की सबसे तेज एशियाई महिला बन गई है?

- Ans
- 1. महिथा मोहन
 - 2. अलीना रीजी
 - 3. वेदांगी कुलकर्णी
 - 4. चोबा देवी

Question ID : 5096476684
Status : Answered
Chosen Option : 3

Q.21 निम्नलिखित में से किस संस्था ने भारत और फ्रांस के स्टार्टअप बिजनेस के बीच निवेश सुविधा और सहयोग को बढ़ावा देने के लिए फ्रांस के साथ समझौता जापन (एमओयू) पर हस्ताक्षर किए?

- Ans
- 1. कॉर्पोरेट भारत
 - 2. इंडिया लाइव
 - 3. इंडिया पिचर्स
 - 4. इन्वेस्ट इंडिया

Question ID : 5096476704
Status : Answered
Chosen Option : 4

Q.22 Which of the following statements is correct?

Ans

✗ 1.

A member of the Lok Sabha submits his resignation to the Attorney-General.

✗ 2.

A member of the Rajya Sabha submits his resignation to the Attorney-General.

✓ 3.

A member of the Lok Sabha submits his resignation to the Speaker of the Lok Sabha.

✗ 4.

A member of the Rajya Sabha submits his resignation to the Prime Minister.

Question ID : 5096476700

Status : Answered

Chosen Option : 3

Q.23 India's first heli taxi service was launched in 2018 in:

Ans ✗ 1. Jammu

✗ 2. Pune

✓ 3. Bengaluru

✗ 4. New Delhi

Question ID : 5096476689

Status : Answered

Chosen Option : 3

Q.24 इनमें से कौन भारत में सबसे बड़ा तटीय कच्छ है?

Ans ✓ 1. चिलिका झील

✗ 2. कालीवली झील

✗ 3. सांभर साल्ट झील

✗ 4. पुलिकट झील

Question ID : 5096476710

Status : Answered

Chosen Option : 1

Q.25 The book 'Padshahnama' is written about which of the following Mughal emperors?

Ans ✗ 1. Humayun

✓ 2. Shah Jahan

✗ 3. Jahangir

✗ 4. Akbar

Question ID : 5096476694

Status : Answered

Chosen Option : 1

Q.26 रेशम के फ़ाइबर, निम्नलिखित में से किससे बने होते हैं?

- Ans
- 1. कार्बोहाइड्रेट
 - 2. प्रोटीन
 - 3. वसा
 - 4. विटामिन

Question ID : 5096476707
Status : Answered
Chosen Option : 2

Q.27 औरंगाबाद में 'बीबी का मकबरा' निम्नलिखित में से किस मुगल सम्राट की पत्नी की याद में बनाया गया है?

- Ans
- 1. बहादुर शाह जफर
 - 2. जहांगीर
 - 3. औरंगजेब
 - 4. शाह आलम

Question ID : 5096476697
Status : Answered
Chosen Option : 3

Q.28 राष्ट्रीय लीची अनुसंधान केंद्र कहाँ स्थित है?

- Ans
- 1. सीतामढ़ी
 - 2. मुजफ्फरपुर
 - 3. मधुबनी
 - 4. पूर्वी चंपारण

Question ID : 5096476709
Status : Answered
Chosen Option : 1

Q.29 भारत के संविधान का अनुच्छेद 40 इनमें से किससे संबंधित है?

- Ans
- 1. शिक्षा का अधिकार
 - 2. काम का अधिकार
 - 3. श्रमिकों के लिए रहने की मजदूरी आदि
 - 4. ग्राम पंचायतों का संगठन

Question ID : 5096476698
Status : Answered
Chosen Option : 4

Q.30 According to Article 85 of the Constitution of India, _____ can prorogue _____.

Ans

1. The Prime Minister; the Rajya Sabha
2. The President; the Rajya Sabha
3. The Attorney-General; the Lok Sabha
4. The Vice-President; the Lok Sabha

Question ID : 5096476701
Status : Answered
Chosen Option : 2

Section : General Aptitude

Q.1 अगर $5a : 2b = 3 : 2$ और $3b : 7c = 5 : 7$ हो, तो $a : b : c$ का मान निम्नलिखित में से किसके बराबर होगा?

- Ans 1. 3 : 5 : 3
2. 5 : 7 : 3
3. 7 : 5 : 3
4. 5 : 3 : 7

Question ID : 5096476736
Status : Answered
Chosen Option : 2

Q.2 X अपने घर से पूर्व की ओर चलना आरंभ करता है। 2 km चलने के बाद, वह बाएं मुड़ता है और 6 km चलता है। वहां से, वह फिर से बाएं मुड़कर 10 km की दूरी तय करता है। X अपने घर से कितनी दूर पर है?

- Ans 1. 6 km
2. 8 km
3. 14 km
4. 10 km

Question ID : 5096476723
Status : Answered
Chosen Option : 4

Q.3 Find the ODD one out:

Shirt, Kurta, Coat Dhoti

- Ans 1. Kurta
2. Dhoti
3. Coat
4. Shirt

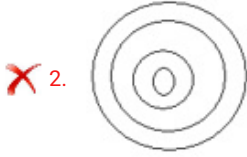
Question ID : 5096476725
Status : Answered
Chosen Option : 2

Q.4

निम्नलिखित में से उस वेन डायग्राम का चयन करें जो नीचे दिए गए वर्गों के सेट के बीच के संबंधों को सबसे अच्छे ढंग से दर्शाता है।

प्लूटो, चंद्रमा, मंगल, सौर मंडल

Ans



Question ID : 5096476714

Status : Answered

Chosen Option : 4

Q.5 75 छात्रों की एक कक्षा में, 44% लड़के हैं और शेष लड़कियां हैं। लड़कों का औसत अंक 66 और लड़कियों का अंक 72 है। पूरी कक्षा का औसत अंक कितना है?

Ans ✗ 1. 68.82

✓ 2. 69.36

✗ 3. 70.24

✗ 4. 68.56

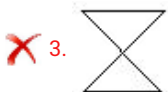
Question ID : 5096476738

Status : Answered

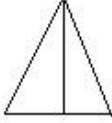
Chosen Option : 4

Q.6 Select the figure that is different from the rest in some respect.

Ans



✓ 4.



Question ID : 5096476713
Status : Answered
Chosen Option : 3

Q.7 The difference between compound interest and simple interest on ₹ 20,000 for two years at $x\%$ per annum is ₹ 512.
What is the value of x ?

- Ans
- ✓ 1. 16%
 - ✗ 2. 10%
 - ✗ 3. 14%
 - ✗ 4. 12%

Question ID : 5096476737
Status : Answered
Chosen Option : 4

Q.8 एक कार्य को करने में A, B और C की क्षमता 4 : 6 : 9 के अनुपात में हैं। एक साथ काम करते हुए, वे 72 घंटे में एक काम पूरा कर सकते हैं। C अकेले उस काम का 50% हिस्सा कुल कितने घंटों में पूरा कर सकता है?

- Ans
- ✓ 1. 76
 - ✗ 2. 114
 - ✗ 3. 57
 - ✗ 4. 95

Question ID : 5096476742
Status : Answered
Chosen Option : 3

Q.9 दो बर्तनों A और B में अम्ल और जल का अनुपात क्रमशः 5 : 7 और 3 : 5 है। उनकी सामग्री को 3 : 2 के अनुपात में मिलाया जाता है। इस मिश्रण के 100 mL घोल में अम्ल और जल का अनुपात 1 : 2 बनाने के लिए इसमें कुल कितनी मात्रा में जल मिलाना होगा?

- Ans
- ✗ 1. 40 mL
 - ✓ 2. 20 mL
 - ✗ 3. 30 mL
 - ✗ 4. 25 mL

Question ID : 5096476740
Status : Answered
Chosen Option : 3

Q.10 अगर दर्पण को निम्नलिखित शब्द के दाईं ओर रखा जाता है, तो इस शब्द की सही मिरर इमेज (दर्पण की छवि) निम्नलिखित में से कौन होगी?

PD98TRS6X

- Ans
- ✗ 1. X6SRTL89CX

✓ 2. PD98TR26X

✗ 3. PD98TR56X

✗ 4. PD98TR26X

Question ID : 5096476715

Status : Answered

Chosen Option : 4

Q.11 $(33)^{49} + (52)^{21} - (27)^{42}$ को हल करने पर इसके इकाई स्थान पर आने वाले अंक का मान निम्नलिखित में से किसके बराबर होगा?

Ans ✗ 1. 5

✗ 2. 7

✗ 3. 4

✓ 4. 6

Question ID : 5096476730

Status : Answered

Chosen Option : 2

Q.12 पांच व्यक्ति, P, Q, R, S और T, एक गोलाकार टेबल के चारों ओर केंद्र की मुंह करके बैठे हैं। S, R के ठीक बगल में नहीं बैठा है। R, P और Q के बीच में है। T, P के दाईं ओर से दूसरे स्थान पर है। T के ठीक बाएं कौन बैठा है?

Ans ✓ 1. S

✗ 2. R

✗ 3. P

✗ 4. Q

Question ID : 5096476724

Status : Answered

Chosen Option : 1

Q.13 निम्नलिखित शब्दों को एक अंग्रेजी शब्दकोश में आने वाले क्रम में सजाएँ।

| Vertical | Volcano | Viola | Veteran | Vertebra |
|----------|---------|-------|---------|----------|
| 1 | 2 | 3 | 4 | 5 |

Ans ✓ 1. 5, 1, 4, 3, 2

✗ 2. 1, 3, 2, 4, 5

✗ 3. 4, 1, 2, 5, 3

✗ 4. 2, 3, 1, 4, 5

Question ID : 5096476719

Status : Answered

Chosen Option : 1

Q.14 अगर आज शनिवार है, तो 37 दिनों के बाद कौन सा दिन होगा?

- Ans
- 1. सोमवार
 - 2. बुधवार
 - 3. रविवार
 - 4. शुक्रवार

Question ID : 5096476726
Status : Answered
Chosen Option : 3

Q.15 A person marks his goods, 60% above cost price. He sells 40% goods at 10% discount, 35% goods at 20% discount and remaining at $x\%$ discount. If his overall profit percent is 30.4%, what is the value of x ?

- Ans
- 1. 30%
 - 2. 25%
 - 3. 40%
 - 4. 35%

Question ID : 5096476739
Status : Answered
Chosen Option : 3

Q.16 निम्नलिखित में से उस सबसे छोटी संख्या के अंकों का योग कितना है, जिसे 695862 को एक पूर्ण वर्ग बनाने के लिए इसमें जोड़ा जाना चाहिए?

- Ans
- 1. 11
 - 2. 15
 - 3. 13
 - 4. 9

Question ID : 5096476728
Status : Answered
Chosen Option : 4

Q.17 निम्नलिखित श्रृंखला में प्रश्न चिह्न (?) के स्थान पर आने वाले विकल्प का पता लगाएँ।

11, 12, 13, 15, 15, 18, 17, ?

- Ans
- 1. 20
 - 2. 19
 - 3. 18
 - 4. 21

Question ID : 5096476722
Status : Answered
Chosen Option : 1

Q.18

A, B, C, D, E और F एक गोलाकार अवस्था में बैठे हैं और ताश खेल रहे हैं। A और B एक दूसरे से सबसे दूर बैठे हैं। E और C एक दूसरे के विपरीत बैठे हैं। F, E के दाएं से दूसरे स्थान पर बैठा है। E के ठीक बाएं कौन बैठा है?

- Ans
- 1. B
 - 2. A
 - 3. D
 - 4. F

Question ID : 5096476716

Status : Answered

Chosen Option : 1

Q.19 What is the sum of digit of the least number, which when divided by 15, 54, 16 and 12 leaves the same remainder 4 in each case and is divisible by 19?

- Ans
- 1. 13
 - 2. 14
 - 3. 15
 - 4. 16

Question ID : 5096476734

Status : Answered

Chosen Option : 3

Q.20 2500×77^5 के समगुणजों की कुल संख्या का मान निम्नलिखित में से किसके बराबर होगा?

- Ans
- 1. 360
 - 2. 540
 - 3. 60
 - 4. 90

Question ID : 5096476733

Status : Answered

Chosen Option : 3

Q.21 $0.\overline{7} + 0.48\overline{9} - 0.5\overline{32}$ का मान निम्नलिखित में से किसके बराबर होगा?

- Ans
- 1. $0.7\overline{354}$
 - 2. $0.7\overline{35}$
 - 3. $0.6\overline{95}$
 - 4. $0.7\overline{25}$

Question ID : 5096476732

Status : Answered

Chosen Option : 3

Q.22 साधारण ब्याज पर 3 वर्षों में एक निश्चित धनराशि स्वयं का 130% हो जाती है। वार्षिक चक्रवृद्धि ब्याज के रूप में 3 वर्षों के लिए ₹ 16,000 धनराशि पर कुल ब्याज कितना होगा?

- Ans
- 1. ₹ 5296

✗ 2. ₹ 5236

✗ 3. ₹ 5138

✗ 4. ₹ 5186

Question ID : 5096476731

Status : Answered

Chosen Option : 1

Q.23 निम्नलिखित में से उस विकल्प का चयन करें जो चौथे पद से ठीक उसी प्रकार संबंधित है, जिस प्रकार पहला पद दूसरे पद से संबंधित है।

माइग्रेन : सिर :: ? : आंखें

Ans ✓ 1. निकट दृष्टि दोष

✗ 2. टांसिलाइटिस

✗ 3. दमा

✗ 4. स्पॉन्डिलाइटिस

Question ID : 5096476720

Status : Answered

Chosen Option : 1

Q.24 $\frac{1}{4 \times 10} + \frac{1}{10 \times 16} + \frac{1}{16 \times 22} + \dots$ के प्रथम 16 अंकों का योगफल कितना होगा?

Ans ✗ 1. $\frac{1}{75}$

✗ 2. $\frac{1}{300}$

✗ 3. $\frac{1}{100}$

✓ 4. $\frac{1}{25}$

Question ID : 5096476729

Status : Answered

Chosen Option : 3

Q.25 एक व्यक्ति 100 km की दूरी 60 km/h की गति से और अगली 150 km की दूरी x km/h की गति से तय करता है। अगर उसकी पूरी यात्रा की औसत गति 50 km/h थी, तो निम्नलिखित में से x का मान कितना होगा?

Ans ✓ 1. 45

✗ 2. 44

✗ 3. 43

✗ 4. 42

Question ID : 5096476741

Status : Answered

Chosen Option : 2

Q.26

निम्नलिखित में से उस विकल्प का चयन करें जो तीसरे शब्द से ठीक उसी प्रकार संबंधित है, जिस प्रकार दूसरा शब्द पहले शब्द से संबंधित है।

बिल्ली : म्याऊ :: बकरी : ?

- Ans
- 1. खिलखिलकर हंसना
 - 2. चिरो
 - 3. मिमियाहट
 - 4. चीं-चीं

Question ID : 5096476718
Status : Answered
Chosen Option : 3

Q.27 एक कक्षा में, संजय ऊपर से 11वें और नीचे से 27वें स्थान पर है। क्या आप बता सकते हैं कि कक्षा में कुल कितने छात्र हैं?

- Ans
- 1. 32
 - 2. 40
 - 3. 35
 - 4. 37

Question ID : 5096476727
Status : Answered
Chosen Option : 4

Q.28 निम्नलिखित में से उस विकल्प का चयन करें जो तीसरी संख्या से ठीक उसी प्रकार संबंधित है, जिस प्रकार दूसरी संख्या पहली संख्या से संबंधित है।

80 : 9 :: 120 : ?

- Ans
- 1. 10
 - 2. 11
 - 3. 12
 - 4. 13

Question ID : 5096476717
Status : Answered
Chosen Option : 2

Q.29 7 अंकों की संख्या $7583x24$ में, 'x' को निम्नलिखित में से किस अंक के साथ बदलने पर पूरी संख्या 44 द्वारा विभाज्य होगी?

- Ans
- 1. 7
 - 2. 2
 - 3. 5
 - 4. 3

Question ID : 5096476735
Status : Answered

Q.30 निम्नलिखित श्रृंखला में प्रश्न चिह्न (?) के स्थान पर आने वाले विकल्प का पता लगाएँ।

121, 129, 156, 220, ?

- Ans
- 1. 300
 - 2. 345
 - 3. 356
 - 4. 296

Question ID : 5096476721

Status : Answered

Chosen Option : 2

Section : Teaching Aptitude

Q.1 Which of the following gives a more meaningful real life situation for teaching mathematics in a classroom?

- Ans
- 1. Daily attendance of students.
 - 2. Solving word problems given in the textbook.
 - 3. Adding numbers on the board.
 - 4. Copying the addition problem into the notebooks.

Question ID : 5096476751

Status : Answered

Chosen Option : 3

Q.2 How does science writing occur in a classroom?

- Ans
- 1. Interaction between teacher and learners
 - 2. Note book entries
 - 3. Science talks
 - 4. Small group discussions

Question ID : 5096476749

Status : Answered

Chosen Option : 4

Q.3 नाटक, समस्त विद्यार्थियों में निम्न को प्रोत्साहित करता है:

- Ans
- 1. भूमिका-अभिनय पर वित्तन, और कुछ सामान्य निष्कर्ष निकालना
 - 2. चित्रित पात्र की समानुभूतिपूर्ण समझ और पहचान
 - 3. शिक्षण अधिगम की जांच करने या पुनरीक्षण रूचिकर बनाने का तरीका

✗ 4. शिक्षणार्थियों के पुनरीक्षण कौशलों का विकास

Question ID : 5096476761
Status : Answered
Chosen Option : 2

Q.4 Which of the following is a shift proposed in social sciences instruction by the National Focus Group constituted by NCERT in 2006?

Ans ✗ 1.

From the community being external to being internal to a school.

✗ 2. From the classroom being exclusive to being inclusive.

✗ 3.

A teacher moving away from being a mentor to becoming a guide.

✓ 4.

From text book as the only source of instruction to text book as a suggestive way of instruction.

Question ID : 5096476756
Status : Answered
Chosen Option : 3

Q.5 According to the theory of cognitive development, an external factor for a child paying attention in a classroom is:

Ans ✗ 1. memory

✗ 2. interest

✓ 3. competitive spirit

✗ 4. forgetting

Question ID : 5096476743
Status : Answered
Chosen Option : 2

Q.6 A major discipline under the family of social sciences is:

Ans ✗ 1. language with society as a theme

✗ 2. sciences dealing with experiments

✗ 3. sciences with research implications

✓ 4. sciences with social implications

Question ID : 5096476757
Status : Answered
Chosen Option : 4

Q.7 मूल्यांकन उपकरण की विश्वसनीयता और वैधता के अलावा, विद्यार्थियों की शिक्षण शैलियों का मूल्यांकन करने वाले शिक्षक को निम्न पर अवश्य विचार करना चाहिए:

Ans ✗ 1.

उनके सहकर्मियों द्वारा मॉडल किस सीमा तक उपयोग किया गया है

✗ 2. मॉडल किस सीमा तक स्कोर करना आसान है

✓ 3. मॉडल किस सीमा तक लागू करना आसान है

✗ 4.

अनुसंधान में मूल्यांकन मॉडल का किस सीमा तक उपयोग किया गया है

Question ID : 5096476747

Status : Answered

Chosen Option : 1

Q.8 राष्ट्रीय शिक्षा नीति 1986 के अनुसार, मूल्यों की शिक्षा से निम्न को समाप्त करने में मदद मिलेगी:

Ans

✗ 1. पुराने विश्वास

✗ 2. निर्धनता

✓ 3. हिंसा

✗ 4. अशिक्षा

Question ID : 5096476746

Status : Answered

Chosen Option : 3

Q.9 Which of the following is not an aim of mathematics instruction?

Ans

✗ 1. To think and reason.

✓ 2. To memorize and recall formulae.

✗ 3. To formulate and solve problems.

✗ 4. To visualize and handle abstractions.

Question ID : 5096476750

Status : Answered

Chosen Option : 4

Q.10 शिक्षा में कला, निम्न को प्रोत्साहित करती है:

Ans

✓ 1. लीक से हटकर सोच

✗ 2. सामाजिक विकास

✗ 3. खेल विधि

✗ 4. सौंदर्य वृद्धि

Question ID : 5096476762

Status : Answered

Chosen Option : 1

Q.11 निम्न में से कौन सा शब्द लैंगिक पक्षपात दर्शाता है?

Ans

✓ 1. खूबसूरत

✗ 2. बहुत अच्छे

✗ 3. शाबाश

✗ 4. उत्कृष्ट

Question ID : 5096476755

Status : Answered

Chosen Option : 1

Q.12 परिवार में निम्न में से कौन सा कारक, बच्चे के सकारात्मक विकास का परिणाम देता है?

Ans ✗ 1.

जब किसी अभिभावक को मानसिक स्वास्थ्य समस्या होती है।

✗ 2.

जब माताओं द्वारा दुर्व्यवहार या उपेक्षा का अनुभव किया जाता है।

✗ 3. जब वित्तीय संसाधन अपर्याप्त होते हैं

✓ 4. जब परिवारों की सामाजिक सहायता तक पहुंच होती है।

Question ID : 5096476744

Status : Answered

Chosen Option : 4

Q.13 बच्चे द्वारा प्रदर्शित निम्न में से कौन सा व्यवहार, उसके यौन दुर्व्यवहार के शिकार होने का संकेत है?

Ans ✗ 1. अत्यधिक सोना

✗ 2. खाने से संबंधित विकार

✗ 3. मित्रों से झगड़ा करना

✓ 4. शरीर में सूजन

Question ID : 5096476754

Status : Answered

Chosen Option : 3

Q.14 According to the guidelines given by NCERT for teaching English for classes 6 to 8, the supplementary textbook is designed for self-study, promoting reading for:

Ans ✗ 1. pleasure only

✓ 2. both, information and pleasure

✗ 3. completing the syllabus

✗ 4. information only

Question ID : 5096476759

Status : Answered

Chosen Option : 2

Q.15 अहंकेंद्रितता क्या है?

Ans ✗ 1.

बच्चे द्वारा निर्जीव वस्तुओं को इस प्रकार संदर्भित किया जाना जैसे कि उनमें सजीवों जैसे गुण हों, और वे क्रियाएं कर सकती हों

✓ 2.

बच्चों का यह मानना, कि सोचने का उनका तरीका ही सोचने का एकमात्र तरीका है

✗ 3.

किसी स्थिति के एक से अधिक आयाम या पहलू को बच्चे द्वारा देख पाने में असमर्थता

✗ 4.

प्रतीकों और संकेतों के उपयोग द्वारा सोचने की बच्चे की क्षमता

Question ID : 5096476745

Status : Answered

Chosen Option : 2

Q.16 सामाजिक विज्ञान शिक्षा का एक मुख्य ध्येय यह है:

Ans ✓ 1.

सामाजिक मुद्दों पर गहन चिंतन-मनन करने के लिए शिक्षणार्थी की क्षमता विकसित करना

✗ 2. परीक्षा हेतु याद कराना

✗ 3.

सामाजिक मुद्दों पर चर्चा करने के लिए शिक्षणार्थी की क्षमता विकसित करना

✗ 4. तथ्यों को क्रमबद्ध करना

Question ID : 5096476752

Status : Answered

Chosen Option : 1

Q.17 Which is not a challenge for girls' education?

Ans ✗ 1. Lack of infrastructural facility.

✗ 2. Lack of female teachers.

✗ 3. Societal feeling of insecurity about girls.

✓ 4. Discrimination based on religion or caste.

Question ID : 5096476753

Status : Answered

Chosen Option : 2

Q.18 According to research, what kind of language environments do educators use in a high-quality classroom?

Ans ✗ 1. A variety of pictures and graphics.

✓ 2. A variety of experiments and practical work.

✗ 3. A variety of analytical questions and complex problems.

✗ 4. A variety of abstract words and complex sentences.

Question ID : 5096476758

Status : Answered

Chosen Option : 2

Q.19 Which of the following features makes distance education dynamic and exciting?

- Ans
- 1. Educational technology
 - 2. Communication channels
 - 3. Contact classes
 - 4. Educational resources

Question ID : 5096476748
Status : Answered
Chosen Option : 1

Q.20 According to NCERT guidelines for teaching social science, newspapers should be used in the classrooms to:

- Ans
- 1. to provide visuals on the topics learnt
 - 2. to provide information that can help with their scientific research
 - 3. to provide pictures and graphics to make the news interesting
 - 4. to update on current history

Question ID : 5096476760
Status : Answered
Chosen Option : 4

Section : Concerned Subject Knowledge

Q.1 Which type of site is Durham in England?

- Ans
- 1. Harbour site
 - 2. Hill top site
 - 3. Island site
 - 4. Sheltered site

Question ID : 5096476795
Status : Answered
Chosen Option : 1

Q.2 किस वर्ष में प्रायद्वीपीय भारत में कोयना भूकम्प आया था?

- Ans
- 1. 1967
 - 2. 1990
 - 3. 2001
 - 4. 1993

Question ID : 5096476785
Status : Answered
Chosen Option : 1

Q.3 वायुमंडल में _____ ऊंचाई से ऊपर विरलता के कारण सांस लेने में कठिनाई होती है और थकावट का अहसास होता है।

- Ans
- 1. 1400 ft
 - 2. 1100 ft
 - 3. 1300 ft
 - 4. 1200 ft

Question ID : 5096476810

Status : Answered

Chosen Option : 1

Q.4 The position of the sun, the moon and the earth in a straight line is called _____.

- Ans
- 1. Three-cell
 - 2. Syzygy
 - 3. Dilation
 - 4. Isanomalous line

Question ID : 5096476766

Status : Answered

Chosen Option : 2

Q.5 Which route was once considered the 'Lifeline of Britain'?

- Ans
- 1. The Trans-Pacific route
 - 2. The North Atlantic route
 - 3. The Mediterranean-Suez-Asiatic route
 - 4. The Cape of Good Hope route

Question ID : 5096476803

Status : Answered

Chosen Option : 3

Q.6 वायु की जल वाष्प धारण करने की क्षमता संपूर्ण रूप से _____ पर निर्भर करती है।

- Ans
- 1. तापमान
 - 2. दाब
 - 3. घूर्णन
 - 4. गुरुत्वाकर्षण

Question ID : 5096476770

Status : Answered

Chosen Option : 1

Q.7 किस वर्ष में भारतीय राष्ट्रीय बाढ़ आयोग का गठन किया गया?

- Ans
- 1. 1976
 - 2. 1951

3. 1980

4. 1947

Question ID : 5096476786
Status : Answered
Chosen Option : 3

Q.8 डब्ल्यू एम डेविस के अनुसार निम्न में से कौन किसी स्थल के प्राकृतिक भूमि स्वरूप में महत्वपूर्ण भूमिका निभाता है?

- Ans
- 1. प्रक्रिया, संरचना और चरण
 - 2. संरचना, प्रक्रिया और समय
 - 3. समय, प्रक्रिया और स्थान
 - 4. संरचना, समय और मौसम

Question ID : 5096476776
Status : Answered
Chosen Option : 2

Q.9 What are 'mackerel' and 'menhaden'?

- Ans
- 1. Types of saltwater fish
 - 2. Types of trees in tropical areas
 - 3. Names of substances found in the bark of certain trees
 - 4. Names of Brazilian nuts

Question ID : 5096476805
Status : Answered
Chosen Option : 1

Q.10 किस वर्ष में सी डब्ल्यू थोर्नथ्वैट ने उत्तर अमेरिका के जलवायु वर्गीकरण की पहली योजना प्रस्तुत की?

- Ans
- 1. 1932
 - 2. 1931
 - 3. 1930
 - 4. 1933

Question ID : 5096476771
Status : Answered
Chosen Option : 1

Q.11 The telegraph was invented in the year _____.

- Ans
- 1. 1846
 - 2. 1842
 - 3. 1844
 - 4. 1848

Question ID : 5096476807
Status : Answered

Chosen Option : 1

Q.12 कंप्यूटर पर कीबोर्ड का निम्न में से कौन सा शार्टकट आप नई फाइल खोलने के लिए उपयोग करेंगे?

- Ans
- 1. Ctrl + F
 - 2. Ctrl + N
 - 3. Ctrl + X
 - 4. Ctrl + O

Question ID : 5096476792

Status : Answered

Chosen Option : 2

Q.13 As of January 2019, with the help of air transport no place in the world is more than _____ hours away.

- Ans
- 1. 30
 - 2. 25
 - 3. 40
 - 4. 35

Question ID : 5096476809

Status : Answered

Chosen Option : 2

Q.14 अंतरराष्ट्रीय समय रेखा को पूर्व से पश्चिम की ओर पार करने वाला एक अंतरराष्ट्रीय यात्री:

- Ans
- 1. प्रश्न में कथन असत्य है।
 - 2. एक दिन आगे हो जाएगा
 - 3. एक दिन पीछे हो जाएगा
 - 4. न एक दिन पीछे होगा न ही एक दिन आगे

Question ID : 5096476774

Status : Answered

Chosen Option : 3

Q.15 Who coined the term 'conurbation'?

- Ans
- 1. M Johnson
 - 2. Patrick Geddes
 - 3. Jean Gottmann
 - 4. Walter Christaller

Question ID : 5096476815

Status : Answered

Chosen Option : 2

Q.16 Which organisation maintains the upkeep of Pathankot-Jammu-Srinagar National Highway?

- Ans
- 1. Central Public Works Department (CPWD)
 - 2.

Society for Promotion of Wastelands Development (SPWD)

- 3. Local authorities
- 4. Border Roads Organisation (BRO)

Question ID : 5096476820
Status : Answered
Chosen Option : 4

Q.17 Which of the following is NOT a cold oceanic current?

- Ans
- 1. Falkland Current
 - 2. Brazil Current
 - 3. Canary Current
 - 4. Labrador Current

Question ID : 5096476767
Status : Answered
Chosen Option : 2

Q.18 भारत में जादुगुडा खदान किस अयस्क की खदान हैं?

- Ans
- 1. अभ्रक या माइका
 - 2. बाँक्साइट
 - 3. लौह अयस्क
 - 4. यूरेनियम

Question ID : 5096476787
Status : Answered
Chosen Option : 4

Q.19 बाउफोर्ट स्केल के अनुसार तूफान में हवा की गति होती है:

- Ans
- 1. 28 mph
 - 2. 69 mph
 - 3. 42 mph
 - 4. 50 mph

Question ID : 5096476789
Status : Answered
Chosen Option : 3

Q.20 The _____ separate/s the Aravalli Range from the Vindhya Mountain Range.

- Ans
- 1. Maikal Hills
 - 2. Great Boundary Fault
 - 3. Western Ghats

✗ 4. Narmada River

Question ID : 5096476781
Status : Answered
Chosen Option : 2

Q.21 प्रधानमंत्री ग्राम सड़क योजना (PMGSY) का लक्ष्य _____ से अधिक की आबादी वाले पहुंचविहीन गांवों को बारहमासी सड़कों से जोड़ना था।

- Ans
- ✓ 1. 500
 - ✗ 2. 400
 - ✗ 3. 550
 - ✗ 4. 450

Question ID : 5096476812
Status : Answered
Chosen Option : 1

Q.22 Imaginary lines that join the places of equal salinity at sea surface (on map) are called:

- Ans
- ✗ 1. Isohel
 - ✗ 2. Isohexane
 - ✗ 3. Isohyet
 - ✓ 4. Isohalines

Question ID : 5096476765
Status : Answered
Chosen Option : 4

Q.23 Which capital is on a frontier situation?

- Ans
- ✓ 1. Islamabad
 - ✗ 2. Delhi
 - ✗ 3. Moscow
 - ✗ 4. Berlin

Question ID : 5096476797
Status : Answered
Chosen Option : 4

Q.24 Which method was used by Amrit Lal (1959) to determine the functional classification of Class-I cities of India?

- Ans
- ✓ 1. Location quotient method
 - ✗ 2. Standard deviation method
 - ✗ 3. Centre place method
 - ✗ 4. Quartile deviation method

Question ID : 5096476817
Status : Answered
Chosen Option : 2

Q.25 As per Koppen's classification, in which zone do plants thrive on almost permanently ice-covered arctic and polar areas (say, in the Tundra region)?

- Ans
- 1. Xerophytic zone
 - 2. Megathermal zone
 - 3. Hekistothermal zone
 - 4. Mesothermal zone

Question ID : 5096476769
Status : Answered
Chosen Option : 3

Q.26 1986 की विश्व विकास रिपोर्ट के अनुसार खाद्य सुरक्षा को निम्न प्रकार से परिभाषित किया गया है:

- Ans
- 1. सक्रिय स्वस्थ जीवन के लिए पर्याप्त भोजन तक पहुंच
 - 2. कीटनाशक और उर्वरक मुक्त भोजन तक पहुंच
 - 3. किसानों की उदार नीतियों तक पहुंच
 - 4. भोजन से संबंधित विभिन्न नीतियों तक पहुंच

Question ID : 5096476822
Status : Answered
Chosen Option : 1

Q.27 What is the full form of the term 'ESCAP'?

- Ans
- 1. Economic and Social Commission on America and the Pacific
 - 2. Environmental and Social Commission on Africa and the Pacific
 - 3. Economic and Social Commission for Asia and the Pacific
 - 4. Environmental and Social Commission on Asia and the Pacific

Question ID : 5096476821
Status : Answered
Chosen Option : 4

Q.28 कौन से दो ज्वालामुखीय द्वीप बंगाल की खाड़ी में अवस्थित हैं?

- 1) बैरन द्वीप
- 2) नारकोडन द्वीप
- 3) कावारत्ती द्वीप
- 4) पीरम द्वीप

- Ans
- 1. 3, 4
 - 2. 2, 3
 - 3. 4, 1
 - 4. 1, 2

Question ID : 5096476782
Status : Answered
Chosen Option : 4

Q.29 किसने अपवाह प्रतिरूप के एक प्रकार को दर्शाने के लिये दुर्माष्म (डेंड्राइट) की शब्दावली दी?

- Ans
- 1. ईएच पैस्को
 - 2. एमएस कृष्णन
 - 3. आईसी रसेल
 - 4. जीई पिलग्रिम

Question ID : 5096476783
Status : Answered
Chosen Option : 1

Q.30 Damodar Valley at Rajrappa in Hazaribagh is a typical example of a _____ valley.

- Ans
- 1. Polycyclic
 - 2. Tricyclic
 - 3. Bicyclic
 - 4. Monocyclic

Question ID : 5096476777
Status : Answered
Chosen Option : 1

Q.31 Match the following companies with their respective locations:

- | | |
|-------------|------------------|
| 1) BALCO | A) Uttar Pradesh |
| 2) Hindalco | B) Odisha |
| 3) MALCO | C) Chhattisgarh |
| 4) NALCO | D) Tamil Nadu |

- Ans
- 1. 1-C, 2-A, 3-B, 4-D
 - 2. 1-D, 2-A, 3-B, 4-C
 - 3. 1-C, 2-A, 3-D, 4-B
 - 4. 1-A, 2-B, 3-C, 4-D

Question ID : 5096476788

Status : **Answered**
Chosen Option : 3

Q.32 In which year was the 'Urban Land (Ceiling and Regulation) Act' established by the government of India?

- Ans
- 1. 1996
 - 2. 1986
 - 3. 1976
 - 4. 1966

Question ID : 5096476819
Status : **Answered**
Chosen Option : 4

Q.33 What is the full form of the term 'OFC'?

- Ans
- 1. Optic Fiber Cable
 - 2. Optical Fiber Conference
 - 3. Optical Fiber Communication
 - 4. Optic Fiber Conference

Question ID : 5096476811
Status : **Answered**
Chosen Option : 3

Q.34 In Germany, motorways are called _____.

- Ans
- 1. Autobahns
 - 2. Nationalways
 - 3. AutoRoutes
 - 4. Autostrade

Question ID : 5096476801
Status : **Answered**
Chosen Option : 4

Q.35 चीन में यिचांग _____ कस्बा है।

- Ans
- 1. सैन्य
 - 2. घाटी
 - 3.
 - 4.

Question ID : 5096476808
Status : **Answered**
Chosen Option : 1

Q.36

- Ans 1.

- 2.
- 3.
- 4.

Question ID : 5096476784
Status : Answered
Chosen Option : 3

Q.37

- Ans 1.
- 2.
 - 3.
 - 4.

Question ID : 5096476794
Status : Answered
Chosen Option : 2

Q.38

- Ans 1.
- 2.
 - 3.
 - 4.

Question ID : 5096476802
Status : Answered
Chosen Option : 3

Q.39

- Ans 1.
- 2.
 - 3.
 - 4.

Question ID : 5096476772
Status : Answered
Chosen Option : 1

Q.40

- Ans 1.
- 2.
 - 3.
 - 4.

Question ID : 5096476804
Status : Answered
Chosen Option : 1

Q.41

- Ans 1.
 2.
 3.
 4.

Question ID : 5096476764
Status : Answered
Chosen Option : 3

- Q.42
Ans 1.
 2.
 3.
 4.

Question ID : 5096476814
Status : Answered
Chosen Option : 2

- Q.43
Ans 1.
 2.
 3.
 4.

Question ID : 5096476796
Status : Answered
Chosen Option : 1

- Q.44
Ans 1.
 2.
 3.
 4.

Question ID : 5096476798
Status : Answered
Chosen Option : 3

- Q.45
Ans 1.
 2.
 3.
 4.

Question ID : 5096476780
Status : Answered
Chosen Option : 2